


ورقة عمل / مقارنة الأعداد الأسية "الدرس الثالث"

الأسس المتساوية

الأسس المتساوية

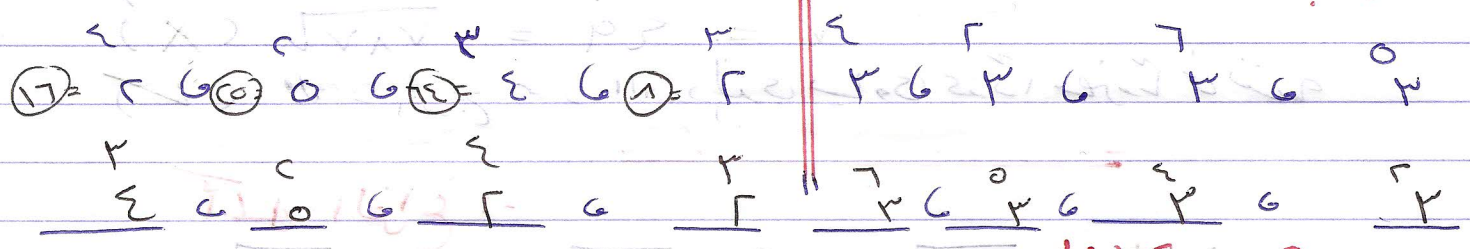


أضرب الأسس  $a^m \times a^n = a^{m+n}$

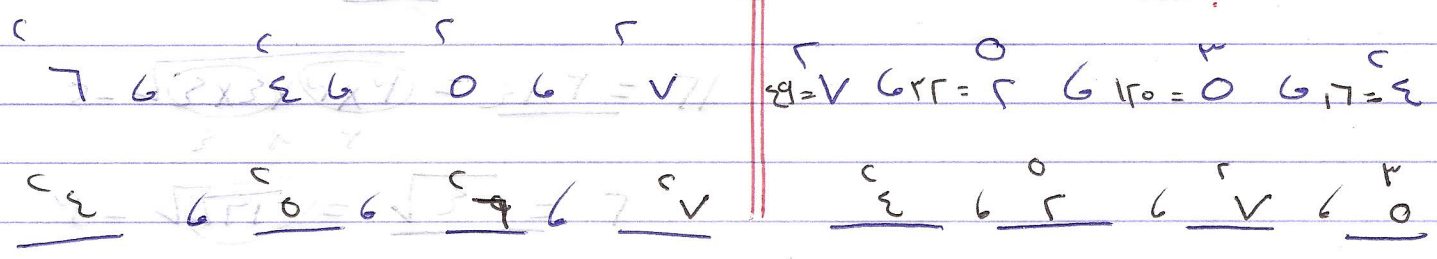


رتب تصاعدي :-


رتب تصاعدي :-



رتب تنازلي :-



تزرع خالد 5 شتلة ورد صوري و 3 شتلة ورد ياسمين  
أحمد تزرع الترحيد الأخضر



$3^2 = 2 = 2 \times 2$   
 $11 = 3 = 3 \times 3$

آثار الغلط :-

